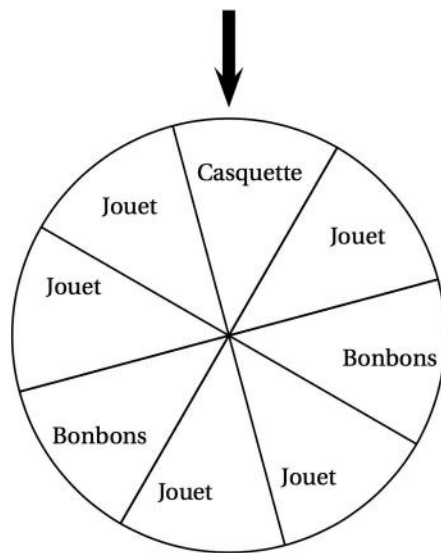


À un stand d'une kermesse, on fait tourner une roue pour gagner un lot (un jouet, une casquette ou des bonbons). Une flèche permet de désigner le secteur gagnant sur la roue.

On admet que chaque secteur a autant de chance d'être désigné.

- Quelle est la probabilité de l'évènement « on gagne des bonbons » ?
 - Définir par une phrase l'évènement contraire de l'évènement « gagne des bonbons ».
 - Quelle est la probabilité de l'évènement défini au 1. b. ?
- Soit l'évènement « on gagne une casquette ou des bonbons ». Quelle est la probabilité de cet évènement ?

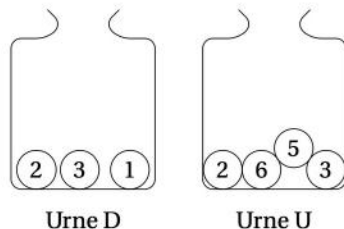


Deux urnes contiennent des boules numérotées indiscernables au toucher. Le schéma ci-contre représente le contenu de chacune des urnes.

On forme un nombre entier à deux chiffres en tirant au hasard une boule dans chaque urne :

- le chiffre des dizaines est le numéro de la boule issue de l'urne D ;
- le chiffre des unités est le numéro de la boule issue de l'urne U.

Exemple : en tirant la boule $\textcircled{1}$ de l'urne D et ensuite la boule $\textcircled{5}$ de l'urne U, on forme le nombre 15.



- A-t-on plus de chance de former un nombre pair que de former un nombre impair ?
- Sans justifier, indiquer les nombres premiers qu'on peut former lors de cette expérience.
 - Montrer que la probabilité de former un nombre premier est égale à $\frac{1}{6}$.
- Définir un évènement dont la probabilité de réalisation est égale à $\frac{1}{3}$.


Dans son lecteur audio, Théo a téléchargé 375 morceaux de musique. Parmi eux, il y a 125 morceaux de rap. Il appuie sur la touche « lecture aléatoire » qui lui permet d'écouter un morceau choisi au hasard parmi tous les morceaux disponibles.

- Quelle est la probabilité qu'il écoute du rap ?
- La probabilité qu'il écoute du rock est égale à $\frac{7}{15}$. Combien Théo a-t-il de morceaux de rock dans son lecteur audio ?
- Alice possède 40 % de morceaux de rock dans son lecteur audio. Si Théo et Alice appuient tous les deux sur la touche « lecture aléatoire » de leur lecteur audio, lequel a le plus de chances d'écouter un morceau de rock ?

On considère un jeu composé d'un plateau tournant et d'une boule. Représenté ci-contre, ce plateau comporte 13 cases numérotées de 0 à 12.

On lance la boule sur le plateau, La boule finit par s'arrêter au hasard sur une case numérotée.

La boule a la même probabilité de s'arrêter sur chaque case.



- Quelle est la probabilité que la boule s'arrête sur la case numérotée 8 ?
- Quelle est la probabilité que le numéro de la case sur lequel la boule s'arrête soit un nombre impair ?
- Quelle est la probabilité que le numéro de la case sur laquelle la boule s'arrête soit un nombre premier ?
- Lors des deux derniers lancers, la boule s'est arrêtée à chaque fois sur la case numérotée 9. A-t-on maintenant plus de chances que la boule s'arrête sur la case numérotée 9 plutôt que sur la case numérotée 7 ? Argumenter à l'aide d'un calcul de probabilités.

Thomas possède une montre qu'il compose en assemblant des cadrans et des bracelets de plusieurs couleurs. Pour cela, Il dispose de :

- deux cadrans : un rouge et un jaune ;
- quatre bracelets : un rouge, un jaune, un vert et un noir.

- Combien y a-t-il d'assemblages possibles ?

Il choisit au hasard un cadran et un bracelet pour composer sa montre.

- Déterminer la probabilité d'obtenir une montre toute rouge.
- Déterminer la probabilité d'obtenir une montre d'une seule couleur.
- Déterminer la probabilité d'avoir une montre de deux couleurs.