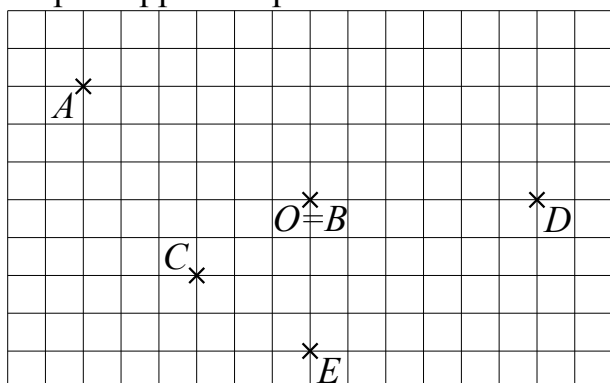
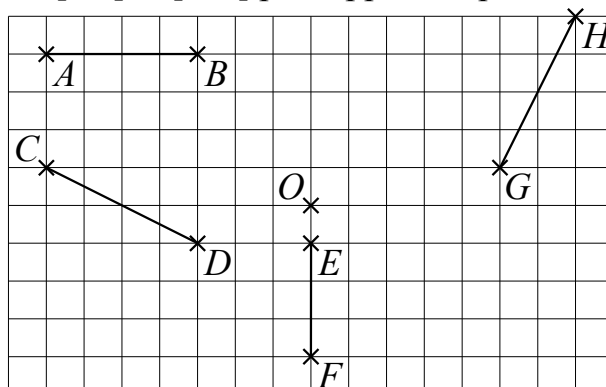


**1** En utilisant le quadrillage, construis :

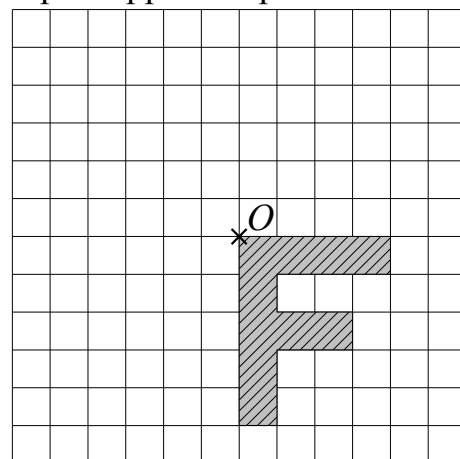
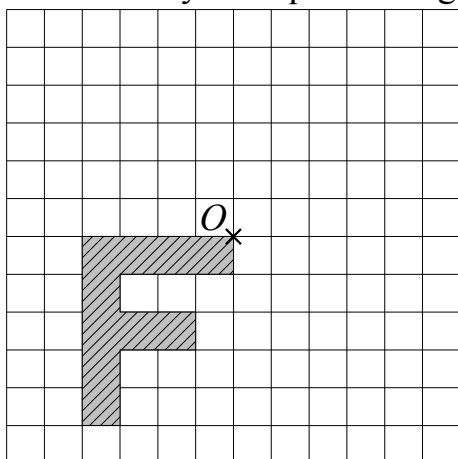
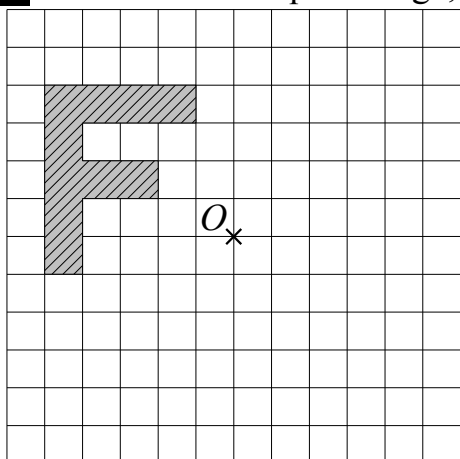
- les symétriques des points  $A$ ,  $B$ ,  $C$ ,  $D$  et  $E$  par rapport au point  $O$ .



- les symétriques des segments  $[AB]$ ,  $[CD]$ ,  $[EF]$  et  $[GH]$  par rapport au point  $O$ .



**2** En utilisant le quadrillage, construis les symétriques des figures par rapport au point  $O$ .



**3** En utilisant le quadrillage, construis les symétriques des figures par rapport au point  $O$ .

