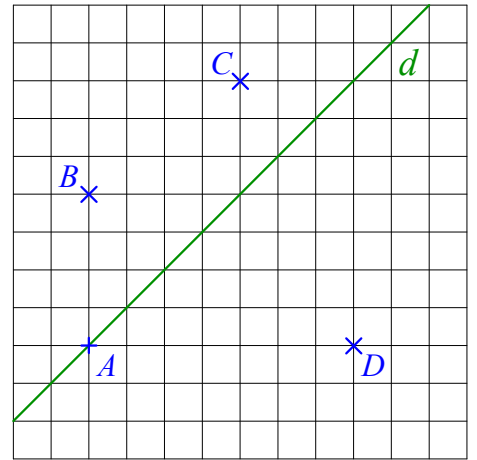
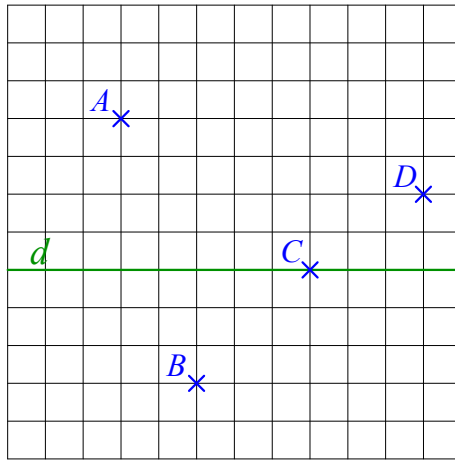
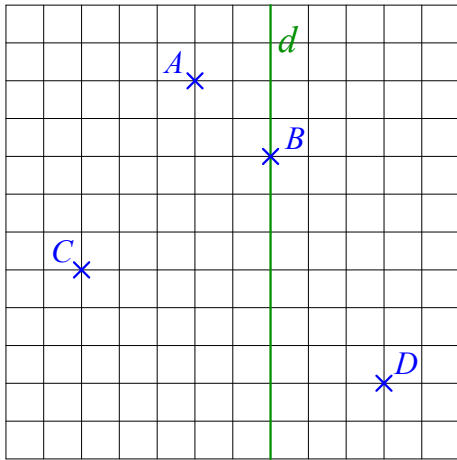


1 Sur chaque figure, **construis** les symétriques des points A , B , C et D par rapport à la droite d .
Nomme-les A' , B' , C' et D' .



Dans chaque cas, **trace** le segment $[DD']$ et **code** la figure.

Que représente la droite d pour le segment $[DD']$?

2 En utilisant les instruments de géométrie, **construis** dans chaque cas les points A' , B' et C' , symétriques des points A , B et C par rapport à la droite d .

