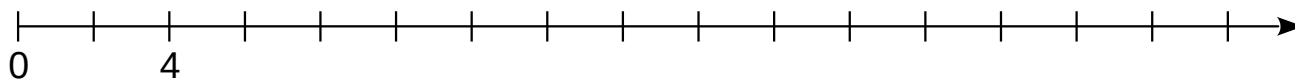
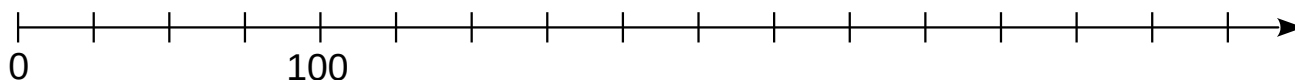


**1** Place sur ces demi-droites graduées les nombres donnés.

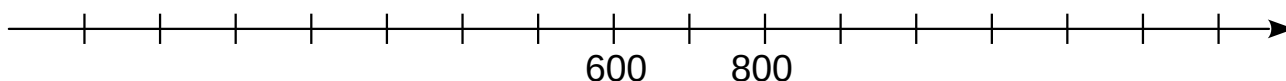
a. Nombres à placer : 8 ; 20 ; 10 ; 13.



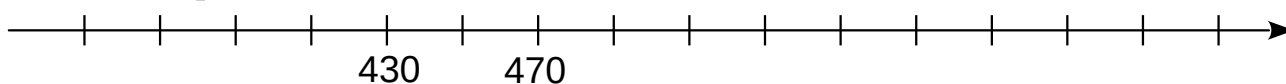
b. Nombres à placer : 300 ; 250 ; 125 ; 375.



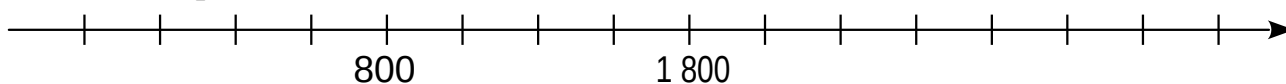
c. Nombres à placer : 400 ; 100 ; 1 200 ; 950.



d. Nombres à placer : 510 ; 370 ; 560 ; 600.

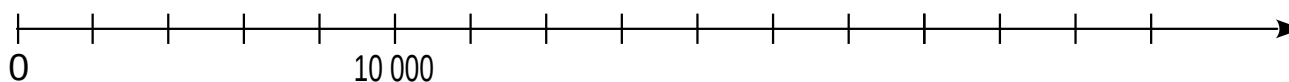


e. Nombres à placer : 2 800 ; 1 300 ; 2 050.



*Pour les plus rapides :*

f. Nombres à placer : 14 000 ; 7 000 ; 21 000 ; 27 500.



**2** Devinettes

Je suis un nombre entier compris entre 1 000 et 10 000.  
 Mon chiffre des milliers est le triple de mon chiffre des dizaines ;  
 Mon chiffre des unités est le double de mon chiffre des centaines ;  
 La somme de mes deux chiffres de gauche est 10.  
**Qui suis-je** (il y a deux possibilités) ?

Je suis un nombre entier inférieur à 8 000.  
 Mon chiffre des centaines est impair.  
 Mon chiffre des milliers est la moitié de mon chiffre des dizaines.  
 Mon chiffre des dizaines est 3 de plus que mon chiffre des centaines.  
 La somme des mes deux derniers chiffres est 17.  
**Qui suis-je** ?

**3** *Pour les plus rapides*

On dispose des quatre plaques suivantes :

mille

cent

deux

trois

**Combien** de nombres peux-tu écrire à l'aide de ces plaques ?