




1 Aide le papillon à rejoindre la fleur.

Son chemin passe par les nombres compris entre $-5,6$ et 0 .

	$-5,5$	$-3,46$	$0,4$	$-2,98$	$-5,1$
$-5,8$	$-5,7$	$-2,9$	-6	$-4,3$	$-3,8$
$1,8$	-1	$-4,6$	$-2,403$	$0,27$	$-2,4$
$-6,5$	$-0,6$	$-5,9$	$0,36$	$4,2$	$1,5$
$3,98$	$-5,36$	$-5,41$	$-0,807$	$-5,039$	$3,9$
$1,52$	$-3,7$	$-6,5$	$-5,602$	$-4,513$	

2 Aide le papillon à rejoindre la fleur.

Son chemin suit l'ordre croissant.

	-13	$-6,4$	-8	$-3,6$	$-3,27$
-10	-8	$-8,3$	-6	$-5,42$	$-3,01$
$-9,7$	$-9,55$	$-8,7$	$7,200$	$-6,2$	-3
$-7,6$	$-1,505$	$-7,201$	$-8,6$	$-2,745$	$-2,8$
$2,9$	$-3,7$	$3,4$	$-5,43$	$-2,1$	-4
$1,52$	$-2,6$	$-6,5$	$-1,2$	$-1,706$	